

**Aufgabe zu Vollholz in Schnitten:****Vervollständige die Umriss durch Schraffieren und Betexten.****Alle in der Aufgabe nicht beschriebene ist fachlich selbst zu bestimmen und zu ergänzen.**

Nr. 1:

Querschnitt durch einen Vollhlzeinlegeboden aus Eiche.

Nr. 2:

Längsschnitt druch einen Boden aus Kiefer.

Nr. 3:


Querschnitt durch eine Arbeitsplatte aus Buchenholz.

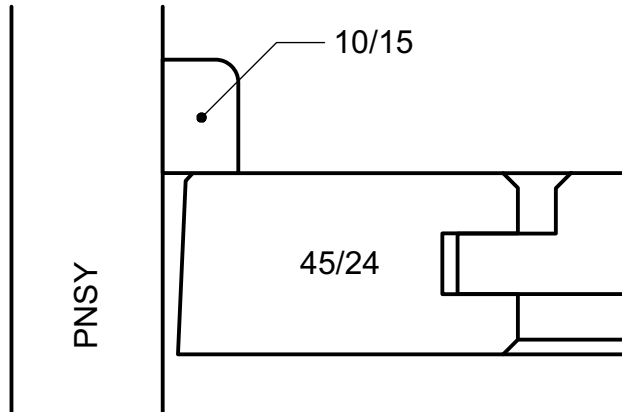
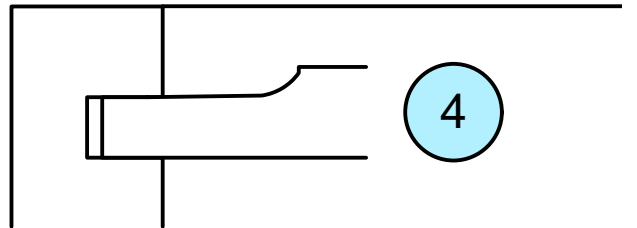
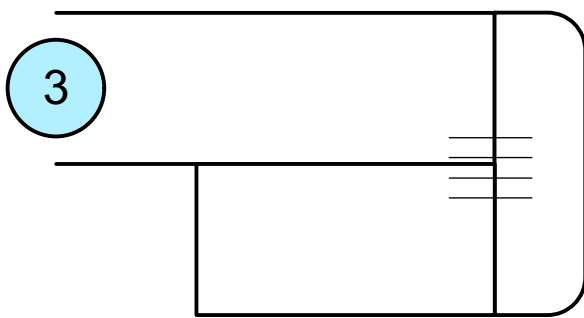

Nr. 4:

Horizontalschnitt durch einen Schrank aus Kiefernholz, massiv.  
Trage zusätzlich fehlende Maße ein.

Nr. 5:

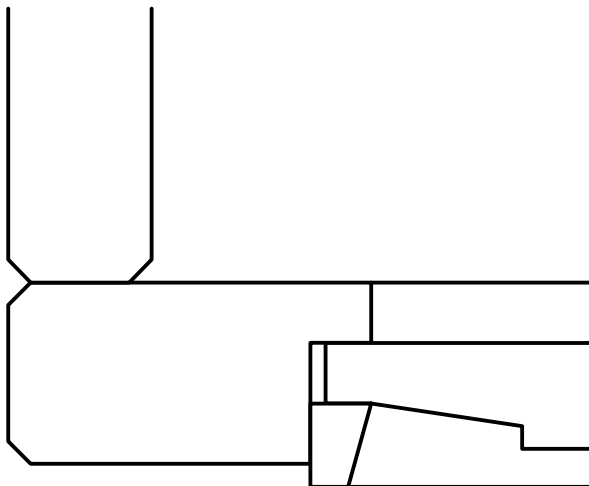
Rahmentür mit vollhlzfüllung, stumpf einschlagend.  
Bemaße und schraffiere.

Name:	gesehen/ Note (Heed)	 Jörg Zürn Gewerbeschule
Datum:	Objekt: Aufgabenbeschreibung zu Übung Vollholz in Schnitten	Zeichnungsnr.: 4
Klasse:		Maßstab: M: ohne

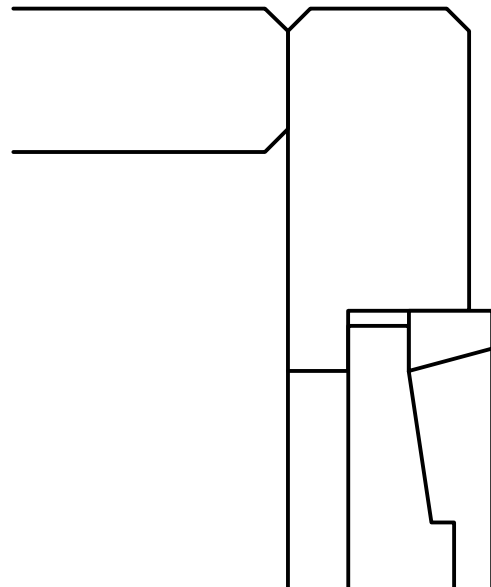



5

Horizontalschnitt



Vertikalschnitt



Name:	gesehen/ Note (Heed)	 Jörg Zürn Gewerbeschule
Datum:	Objekt: Übung Schrafuren, Vollholz in Schnitten	
Klasse:		Maßstab: M 1:1