

**Aufgabe zu Plattenwerkstoffe in Schnitten:**

**Vervollständige die Umriss durch Schraffieren und Betexten.**

**Alle in der Aufgabe nicht beschriebene ist fachlich selbst zu bestimmen und zu ergänzen.**

Nr.1:

Querschnitt einer kunstharzbeschichteten dekorativen Flachpressplatte.

Nr. 2:

Querschnitt einer mit Schichtpressstoff dreiseitig beschichteten Flachpressplatte.

Nr. 3:

Querschnitt durch eine Tischplatte, die mit Nutklötzen an einem Zargengestell befestigt ist.

Die Tischplatte ist mit Schichtpressstoff beiseitig beschichtet.

Nr. 4:

Horizontalschnitt durch einen Möbelkorpus.

Die Türen und der Korpus bestehen aus kunstharzbeschichteten dekorativen Flachpressplatten.

Die Rückwand aus einseitig beschichteter Holzfaserverplatte.

Auf die Tür- und Korpuschmalflächen werden Kunststoffkanten geklebt.

Nr. 5:


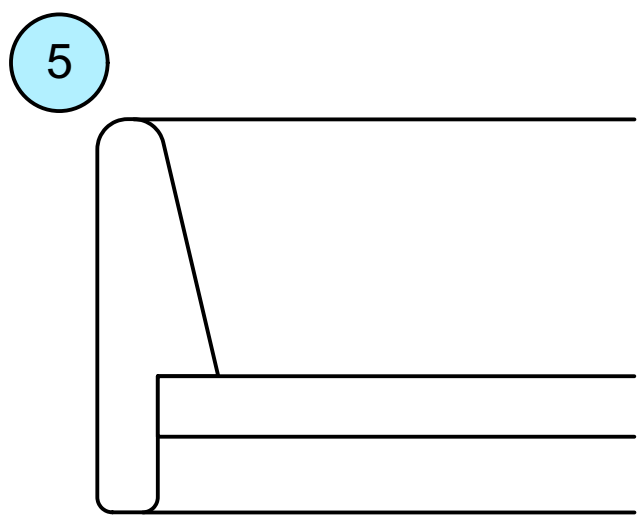
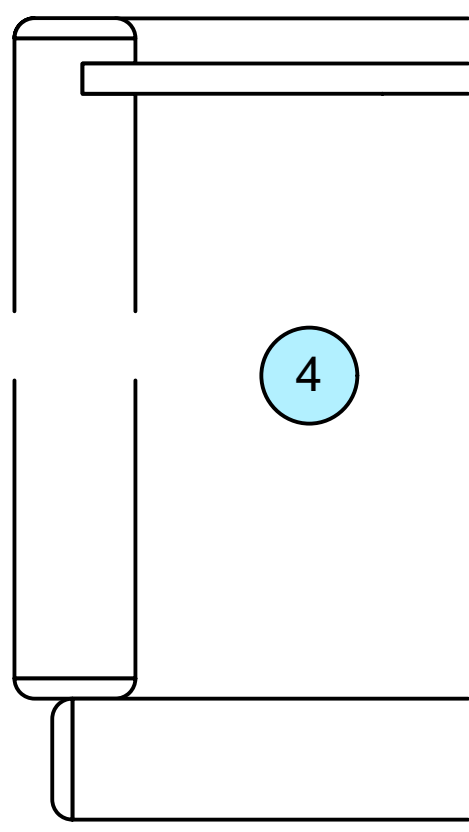
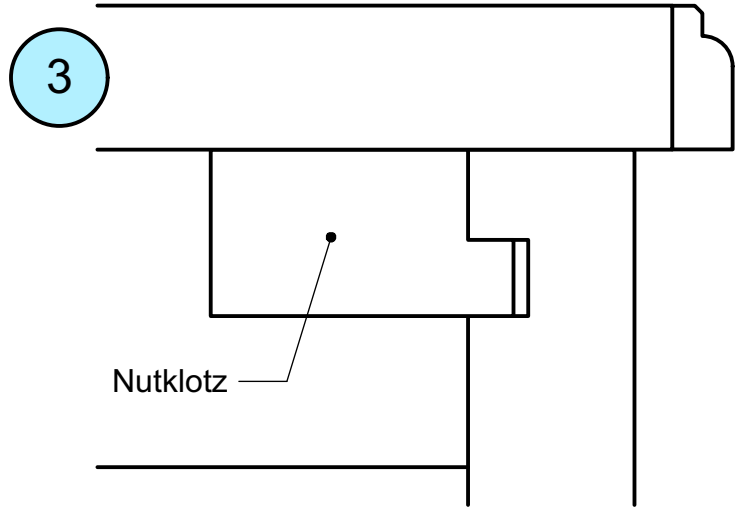
Querschnitt durch ein Tablett.


Der Tablettboden besteht aus Furnierplatte, der mit Ahorn furniert wird.

Nr. 6:

Querschnitt durch ein allseitig mit Schichtpressstoff ummanteltes Profil.

Name:	gesehen/ Note (Heed)	 Jörg Zürn Gewerbeschule
Datum:	Objekt: Aufgabenbeschreibung zu Übung Plattenwerkstoffe in Schnitten	Zeichnungsnr.: 5
Klasse:		Maßstab: M: ohne



Name:	gesehen/ Note (Heed)	 Jörg Zürn Gewerbeschule
Datum:	Objekt: Übung Schraffuren, Plattenwerkstoffe in Schnitten	Zeichnungsnr.: 5.1
Klasse:		Maßstab: M 1:1