

Aufgabe zu Verbindungsmittel in Schnitten:

Vervollständige die Umriss durch ergänzen der angegebenen Verbindungsmittel, Schraffieren und Betexten.

Alles in der Aufgabe nicht Beschriebene ist fachlich selbst zu bestimmen und zu ergänzen.

Schraffieren Sie die Frontalschnitte und den Vertikalschnitt.
Außer bei Nr. 6 Spanplatte (allgemeine Zwecke), furniert.

Nr. 1:
gedübelte Verbindung, "ausführliche Form/ Langform",
Dübel \varnothing 8 x 30.

Nr. 2:
a) gedübelte Verbindung, Kurzform/ Symbol, Dübel \varnothing 8 x 30
b) Vertikalschnitt. Dübel \varnothing 8 x 30. Erster Dübel 12 mm von der
Vorderkante;danach im 32er Raser.

Nr. 3:
Winkeldübel \varnothing 8 x 24, ausführliche Form.


Nr. 4:
Formfeder Nr. 20.

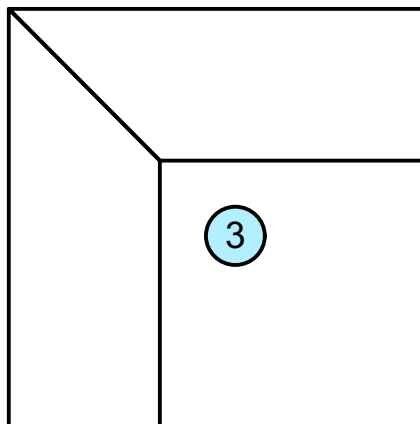
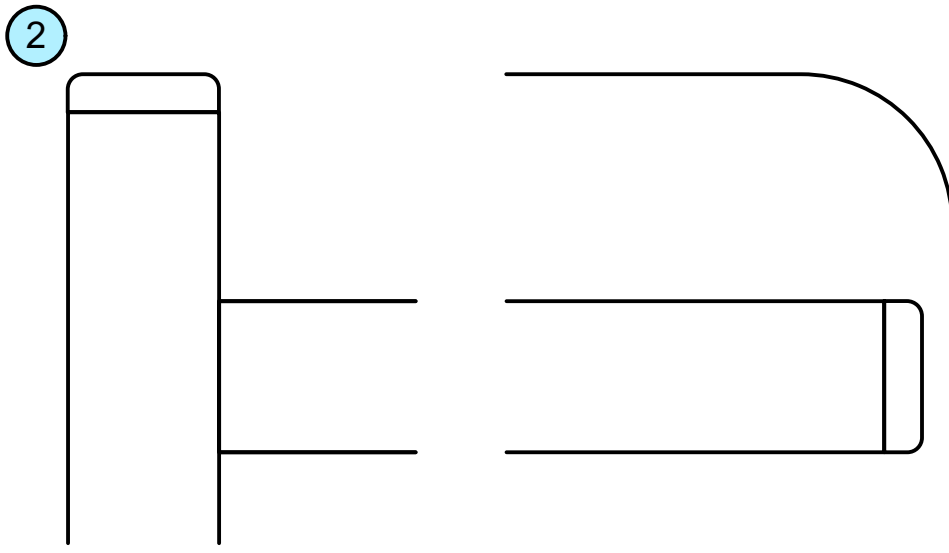
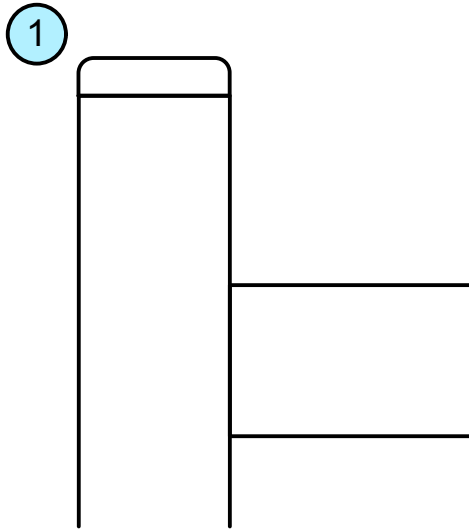
Nr. 5:
(Fremd-) Feder aus Sperrholz.


Nr. 6
Vollholzverbindung: Angeschnittene Feder.
Federstärke $\sim 1/3$ d, Nuttiefe $\sim 1/3$ bis $1/2$ d.

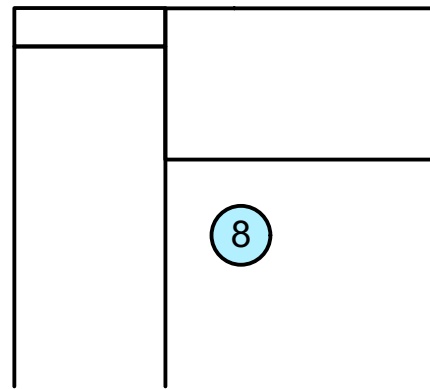
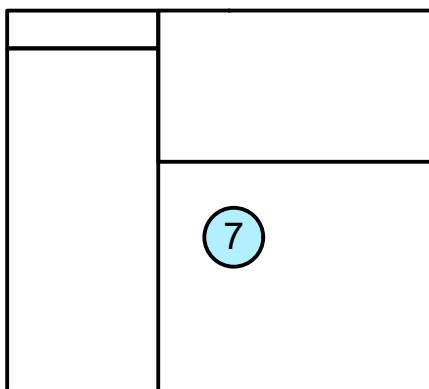
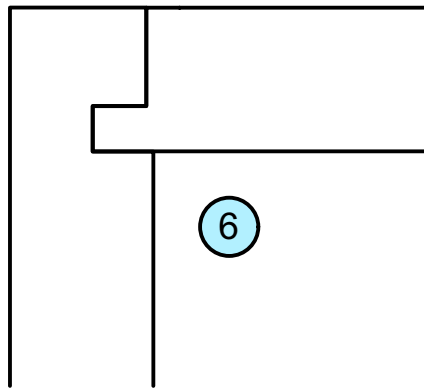
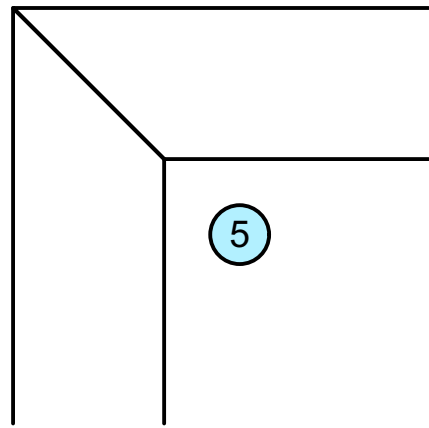
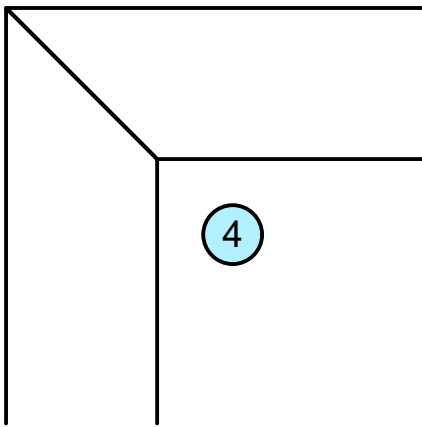
Nr. 7:
gedübelte Verbindung, Kurzform, Dübel \varnothing 8 x 40.


Nr. 8:
Formfeder Nr. 10.

Name:	gesehen/ Note (Heed)	 Jörg Zürn Gewerbeschule
Datum:	Objekt: Aufgabenbeschreibung zu Übung Verbindungsmittel in Schnitten	Zeichnungsnr.: 8
Klasse:		Maßstab: M ohne



Name:	gesehen/ Note (Heed)	 Jörg Zürn Gewerbeschule
Datum:	Objekt: Übung Verbindungsmittel in Schnitten	
Klasse:		Maßstab: M 1:1



Name:	gesehen/ Note (Heed)	 Jörg Zürn Gewerbeschule
Datum:	Objekt: Übung Verbindungsmittel in Schnitten (2)	
Klasse:		Maßstab: M 1:1